











Тест по теме
«Графический редактор PAINT»






1. Укажите инструмент для рисования прямой линии

- A) 
- B) 
- C) 
- D) 
- E) 






2. Укажите инструмент для рисования скругленного прямоугольника

- A) 
- B) 
- C) 
- D) 
- E) 






3. Укажите инструмент для рисования кривой линии

- A) 
- B) 
- C) 
- D) 
- E) 






4. Укажите инструмент для рисования многоугольника

- A) 
- B) 
- C) 
- D) 
- E) 

5. Установите соответствие

- A)  1) карандаш
- B)  2) выделение прямоугольной области
- C)  3) выделение произвольной области
- D)  4) определение цвета рисования
- E)  5) заливка

6. Установите соответствие

- A)  1) текст
- B)  2) распылитель
- C)  3) масштаб
- D)  4) кисть
- E)  5) ластик

7. Какой элемент окна Paint изображен на рисунке



- A) рабочая область
- B) лента вкладок
- C) строка заголовка
- D) строка состояния
- E) палитра

8. Какой элемент окна Paint изображен на рисунке



- A) панель быстрого доступа
 - B) лента вкладок
 - C) строка заголовка
 - D) строка состояния
 - E) палитра
9. Какой элемент окна Paint изображен на рисунке




- A) панель быстрого доступа
 - B) лента вкладок
 - C) строка заголовка
 - D) строка состояния
 - E) палитра
10. Какой элемент окна Paint изображен на рисунке



- A) панель быстрого доступа
 - B) лента вкладок
 - C) строка заголовка
 - D) строка состояния
 - E) палитра
11. Какой элемент окна Paint изображен на рисунке



- A) панель быстрого доступа
 - B) лента вкладок
 - C) строка заголовка
 - D) строка состояния
 - E) палитра
12. Какой значок имеет графический редактор Paint



13. Какие действия были произведены с рисунком после копирования
- A) наклон
 - B) поворот
 - C) уменьшение размеров
 - D) растяжение
 - E) обрезка



14. Какие действия были произведены с рисунком после копирования
- A) наклон
 - B) поворот
 - C) уменьшение размеров
 - D) увеличение размеров
 - E) обрезка



15. Какие действия были произведены с рисунком

- A) наклон
- B) поворот
- C) уменьшение размеров
- D) копирование
- E) обрезка



16. Какие действия были произведены с рисунком после копирования

- A) наклон
- B) поворот
- C) уменьшение размеров
- D) увеличение размеров
- E) обрезка



17. Какие действия были произведены с рисунком после копирования

- A) наклон
- B) поворот
- C) уменьшение размеров
- D) увеличение размеров
- E) обрезка




18. Какие действия были произведены с рисунком после копирования

- A) наклон
- B) поворот
- C) уменьшение размеров
- D) увеличение размеров
- E) обрезка



19. Какие действия были произведены с рисунком после копирования

- A) наклон
- B) поворот
- C) уменьшение размеров
- D) растяжение
- E) обрезка



20. Какую клавишу необходимо использовать для рисования правильных фигур

- A) Shift
- B) Back Space
- C) Delete
- D) Caps Lock
- E) Ctrl

21. Укажите расширение, которое может иметь файл графического редактора Paint

- A) doc
- B) txt
- C) bmp
- D) exe
- E) rtf

22. Каким инструментом нарисован данный рисунок

- A) линия
- B) прямоугольник
- C) овал
- D) распылитель
- E) скругленный прямоугольник



23. Каким инструментом нарисован данный рисунок

- A) линия
- B) кривая
- C) овал
- D) распылитель
- E) скругленный прямоугольник



24. Укажите стандартный путь открытия графического редактора Paint

- A) Пуск – Программы – Стандартные – Paint
- B) Пуск – Программы – Служебные – Paint
- C) Пуск – Настройка – Панель управления – Paint
- D) Пуск – Документы – Мои документы – Paint
- E) правильного ответа нет

25. Сколько раз необходимо фиксировать кривую линию

- A) 10 раз
- B) 3 раза
- C) 2 раза
- D) 1 раз
- E) ни одного раза

26. С помощью какой клавиши нарисован данный рисунок

- A) Shift
- B) Back Space
- C) Delete
- D) Caps Lock
- E) Ctrl



27. Каких возможностей не предоставляет графический редактор Paint

- A) изменение толщины линий
- B) изменение цвета фона
- C) установка прозрачного выделения
- D) вставка готовых рисунков
- E) устранение эффекта красных глаз

28. Каких возможностей не предоставляет графический редактор Paint

- A) отмена предыдущего действия
- B) заливка замкнутой области
- C) изменение размеров рисунка
- D) автоматическое улучшение контрастности на рисунке
- E) изменение палитры

29. Как переводится слово Paint с английского языка

- A) графическая программа
- B) детская раскраска
- C) рисование, краски
- D) вышивание, нитки
- E) нет правильного ответа

30. Какие форматы графических файлов не поддерживает Paint

- A) jpeg
- B) gif
- C) tiff
- D) png
- E) нет правильного ответа